

**ΥΠΟΥΡΓΕΙΟ ΠΑΙΔΕΙΑΣ, ΑΘΛΗΤΙΣΜΟΥ ΚΑΙ ΝΕΟΛΑΙΑΣ**  
**ΔΙΕΥΘΥΝΣΗ ΜΕΣΗΣ ΓΕΝΙΚΗΣ ΕΚΠΑΙΔΕΥΣΗΣ**  
**ΕΝΙΑΙΑ ΓΡΑΠΤΗ ΑΞΙΟΛΟΓΗΣΗ Α΄ ΤΕΤΡΑΜΗΝΟΥ 2022 – 23**  
**Β΄ ΤΑΞΗΣ ΛΥΚΕΙΟΥ**  
**ΗΜΕΡΟΜΗΝΙΑ: ΠΕΜΠΤΗ 26 ΙΑΝΟΥΑΡΙΟΥ 2023**  
**ΕΞΕΤΑΖΟΜΕΝΟ ΜΑΘΗΜΑ: ΕΛΕΥΘΕΡΟ – ΠΡΟΟΠΤΙΚΟ ΣΧΕΔΙΟ**  
**Α΄ ΣΕΙΡΑ**  
**ΚΩΔΙΚΟΣ ΜΑΘΗΜΑΤΟΣ : Β022**  
**ΣΥΝΟΛΙΚΗ ΔΙΑΡΚΕΙΑ ΓΡΑΠΤΗΣ ΕΞΕΤΑΣΕΙΣ: 90 ΛΕΠΤΑ**  
**ΤΟ ΕΞΕΤΑΣΤΙΚΟ ΔΟΚΙΜΙΟ ΑΠΟΤΕΛΕΙΤΑΙ ΑΠΟ ΔΥΟ (2) ΣΕΛΙΔΕΣ Α4**  
**ΚΑΙ ΔΥΟ (2) ΚΕΝΑ ΦΥΛΛΑ ΣΧΕΔΙΑΣΗΣ Α3**

**ΟΔΗΓΙΕΣ (για τους εξεταζόμενους)**

1. Να συμπληρώσετε τα στοιχεία σας με μπλε μελάνι στο έντυπο εξώφυλλο Α4 καθώς και στα δύο φύλλα σχεδίασης μεγέθους Α3.
2. Το εξεταστικό δοκίμιο αποτελείται από δύο (2) μέρη Α΄ και Β΄.
3. Το Μέρος Α΄ αποτελείται από μία (1) άσκηση και βαθμολογείται με εξήντα (60) μονάδες. Το Μέρος Β΄ αποτελείται από μια (1) άσκηση και βαθμολογείται με σαράντα (40) μονάδες. Να λύσετε και τις δύο (2) ασκήσεις με την σειρά που επιθυμείτε, την κάθε μία στο αντίστοιχο φύλλο σχεδίασης μεγέθους Α3.
4. Οι λύσεις των ασκήσεων να σχεδιαστούν στην ίδια όψη του φύλλου σχεδίασης, όπου θα αναγράφονται τα στοιχεία σας.
5. Να παραδώσετε ταυτόχρονα το έντυπο εξώφυλλο Α4 και τα δύο φύλλα σχεδίασης, είτε λύσετε όλα τα θέματα είτε όχι.
6. *Με ευθύνη των επιτηρητών, στην παρουσία του μαθητή που παραδίδει, να γίνουν τα πιο κάτω:*
  - I. Το εξώφυλλο να επικαλύπτει τα δύο (2) φύλλα σχεδίασης και όλα μαζί να συνδεθούν με συρραπτικό.*
  - II. Στο τέλος να επικολληθούν οι τρεις (3) αυτοκόλλητες ετικέτες για επικάλυψη των στοιχείων του εξεταζόμενου.*

**ΣΑΣ ΕΥΧΟΜΑΣΤΕ ΚΑΛΗ ΕΠΙΤΥΧΙΑ**

### **ΜΕΡΟΣ Α΄: ΙΣΟΜΕΤΡΙΚΗ ΠΡΟΒΟΛΗ**

Δίνονται η πρόσοψη, η κάτοψη και η πλάγια όψη του στερεού (σελ. 2)

Να σχεδιάσετε την ισομετρική προβολή του στερεού σε κλίμακα 1 : 1

(οι διαστάσεις στις ορθογραφικές προβολές δίνονται σε χιλιοστά)

Η σχεδίαση θα αξιολογηθεί ως προς τα ακόλουθα σημεία :

1. Την σωστή τοποθέτηση στο σχεδιαστικό χώρο
2. Την ορθή γραμμογραφία
3. Την σχεδιαστική ακρίβεια
4. Την καθαρότητα

(Μονάδες 60)

### **ΜΕΡΟΣ Β΄: ΕΛΕΥΘΕΡΟ ΣΧΕΔΙΟ**

Δίνεται Νεκρή Φύση αποτελούμενη από ένα (1) αντικείμενο.

Να σχεδιάσετε με ελεύθερο χέρι το αντικείμενο και το φόντο του όπως φαίνεται εκ του φυσικού.

Μπορείτε να χρησιμοποιήσετε μολύβια από HB μέχρι 6B.

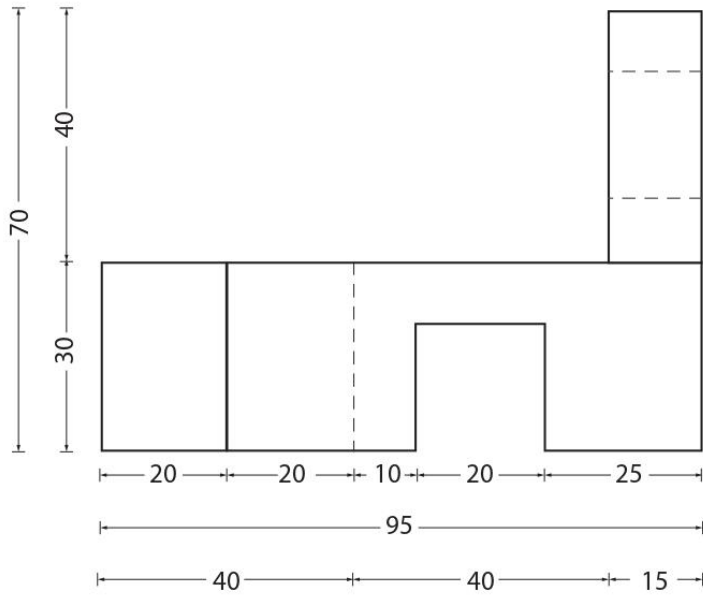
Το χαρτί σχεδίασης μπορεί να τοποθετηθεί οριζόντια ή κάθετα.

Η σύνθεση θα αξιολογηθεί ως προς τα ακόλουθα σημεία :

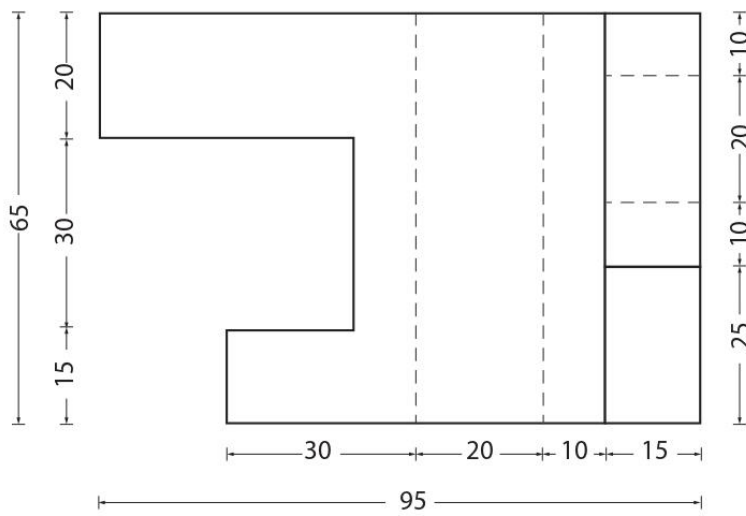
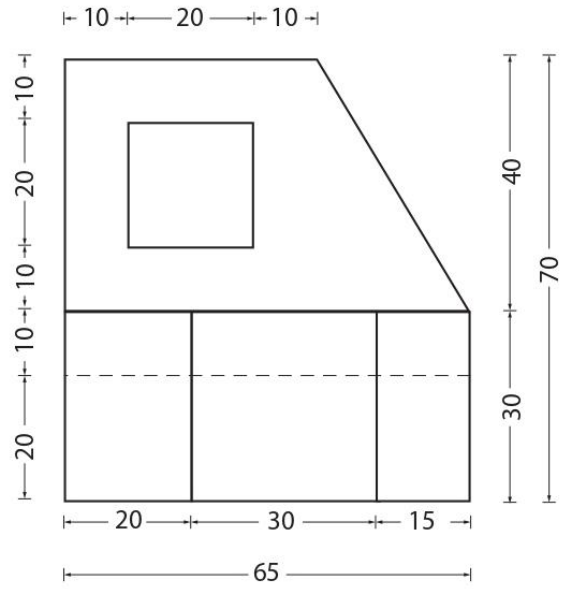
1. Σωστή τοποθέτηση στο σχεδιαστικό χώρο.
2. Ορθές αναλογίες / κλίσεις.
3. Ορθή απόδοση της Τονικής διαβάθμισης, φωτοσκίασης και όγκου.
4. Απόδοση της Υφής.
5. Απόδοση του Φόντου και του Βάθους / Χώρου.

(Μονάδες 40)

ΠΡΟΣΩΨΗ



ΠΛΑΓΙΑ ΟΨΗ



ΚΑΤΟΨΗ

Οι διαστάσεις είναι σε χιλιοστά  
ΚΛ. 1:1

ΤΕΛΟΣ ΕΞΕΤΑΣΤΙΚΟΥ ΔΟΚΙΜΙΟΥ